


# Le docteur Guérit-tout

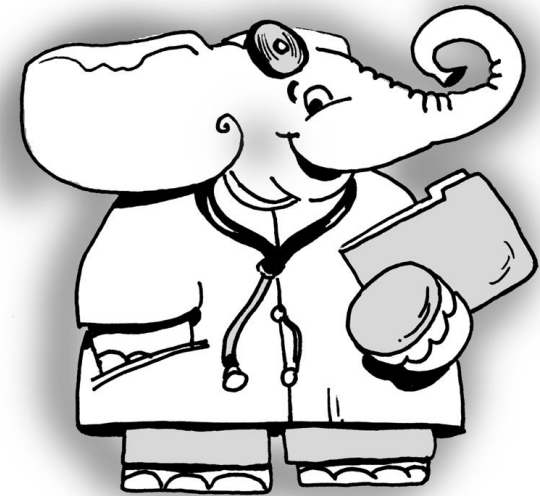
Au cours de la dernière semaine, ta mère a pris froid. Elle a maintenant un gros rhume.

Pour la soigner, le médecin lui a recommandé de prendre un sirop contre la toux aux 4 heures.

Ce matin, dès son réveil, ta maman a pris son sirop comme le lui a prescrit son médecin. Il était 6 heures.


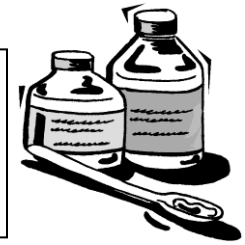
Aide-la à prévoir les moments où elle devra prendre son médicament jusqu'à l'heure de son coucher prévu pour 11 heures.

SITUATION D'APPLICATION						
Régularité						
(1)						
		Manifestations observables d'un niveau...				
		A	B	C	D	E
Critère d'évaluation	Analyse Choix					
	Application					
	Justification					



Nom :	..... ..... .....
Date :	..... ..... .....

Trouve les moments où ta maman doit prendre le médicament que le Dr Guérit-tout lui a prescrit pour la soulager de son gros rhume. Laisse des traces de tes calculs.



**Quand je résous  
une situation d'application...**



*J'identifie ce que je cherche.  
J'analyse ce que je sais.  
Je laisse des traces de ma démarche.  
Je peux expliquer ce que j'ai fait.*