

Ejemplos de preguntas de matemáticas – quinto grado

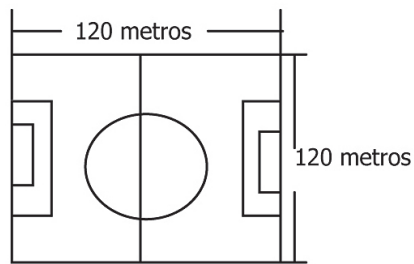
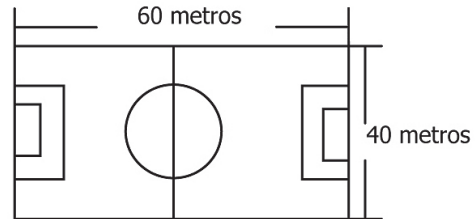
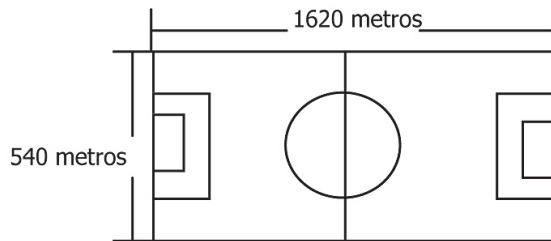
RESPONDE LAS PREGUNTAS 1 Y 2 DE ACUERDO CON LA SIGUIENTE INFORMACIÓN

En un entrenamiento, los jugadores de un equipo de fútbol deben hacer un recorrido de 4.320 metros alrededor de su cancha de práctica. Para completar el recorrido, los jugadores del equipo deben dar 12 vueltas completas.

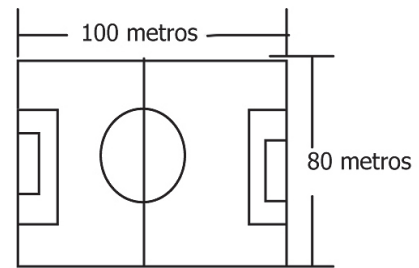
1. ¿Cuál es el dibujo que representa las dimensiones de la cancha de práctica?

A

B



C



D

Componente: Geométrico – métrico

Competencia: Comunicación